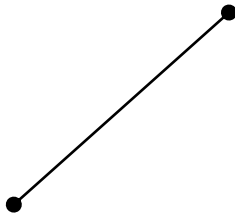
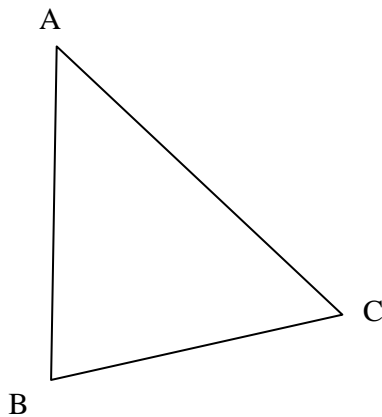


1) Construire le milieu du segment suivant :



2) Dans le triangle ABC suivant, construire les milieux respectifs I et J des segments [AB] et [AC] :



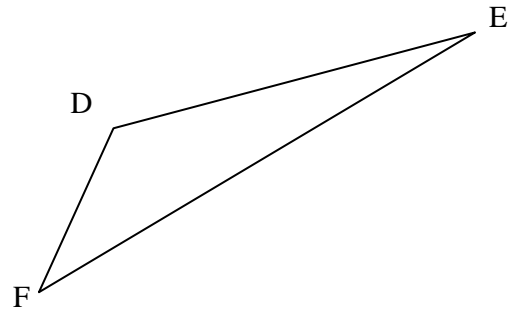
a) Que remarque-t-on quant à la droite (IJ) ?

b) Mesurer les longueurs IJ et BC :

IJ =                      BC =

Que remarque-t-on?

3) Dans le triangle DEF suivant, construire les milieux respectifs G et H des segments [DE] et [EF] :



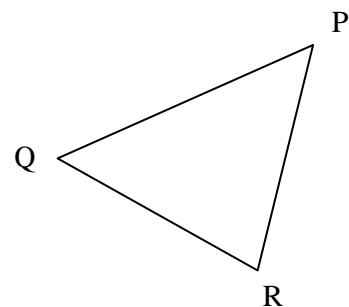
a) Que remarque-t-on quant à la droite (GH) ?

b) Mesurer les longueurs GH et DF :

GH =                      DF =

Que remarque-t-on?

4) Dans le triangle PQR suivant, construire le milieu S du segment [PQ], puis tracer la parallèle à (QR) passant par le point S :



Que remarque-t-on?